

IMIĘ I NAZWISKO .....

SZK.PODST. NR ..... ZS NR ..... W .....

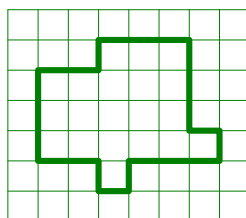
IMIĘ I NAZWISKO NAUCZYCIELA MATEMATYKI.....

## XV NUDNA MATEMATYKA

### KLASA V SZK. PODST. – PÓŁFINAŁ

#### ZADANIE 1

Podziel figurę wzdłuż kratek na **pięć** części o **równych polach**, ale **różnych kształtach**.

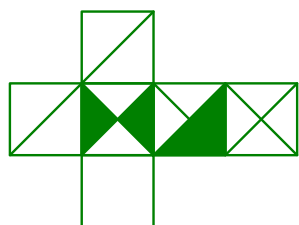


#### ZADANIE 2

Pewną ilość cukierków zamierzano podzielić po równo pomiędzy 15 dzieci. Ponieważ 3 dzieci była nieobecna podzielono równo cukierki pomiędzy pozostałe dzieci. Każde z dzieci dostało o 2 cukierki więcej niż początkowo planowano.

Ile cukierków było do podziału?

#### ZADANIE 3



Których kostek nie można skleić z przedstawionej siatki? (przy każdej z kostek zaznacz właściwą odpowiedź).



Da się uzyskać  
Nie da się uzyskać



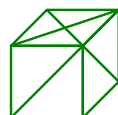
Da się uzyskać  
Nie da się uzyskać



Da się uzyskać  
Nie da się uzyskać



Da się uzyskać  
Nie da się uzyskać



Da się uzyskać  
Nie da się uzyskać



Da się uzyskać  
Nie da się uzyskać

#### ZADANIE 4

Szalki dwóch górnych wag są w równowadze. Ile kwadracików potrzeba, aby dolna waga tę znalazła się w równowadze? .

